

**GRUPA MARE**

**EVALUARE SUMATIVĂ**

**Vasile Claudia,  
Grădinița Albă ca Zăpada și piticii, București, sector 4**

<b>DOMENIUL</b>	<b>OBIECTIVE</b>	<b>SARCINA</b>	<b>FORMA DE EVALUARE</b>	<b>Punctaj</b>
1. <b>DOMENIUL LIMBĂ ȘI COMUNICA RE</b>	- să discrimineze cuvintele din propoziție și silabele din cuvânt; - să realizeze reprezentarea grafică; - să se exprime corect din punct de vedere gramatical, fonetic și lexical; - să recite cu respectarea intonației, ritmului și pauzei	1- desparte în silabe și apoi scrie atâtea liniuțe câte silabe are fiecare din cuvintele care denumesc imaginile, în dreptunghi;  2- recita o poezie	Joc didactic “Câte silabe are?”  -fisa individuală  -proba orală	4pct.      2 pct.
2. <b>DOMENIUL OM SOCIETATE</b>	-să aprecieze în situații concrete, unele atitudini și comportamente în raport cu normele cunoscute și prestabilite -să realizeze elemente de activitate practică	1- descoperă comportamentele corecte, spune ce reguli nu respectă copilul; -colorează comportamentele ‘așa da’, dă o bulină neagră pt. ‘așa nu’ 2- decupeaza pe contur conform cerintelor	Joc didactic -“Așa da, așa nu!” -fișa individuală -activitate practica „Podoabe pentru brad”	4 pct.      2 pct.
3. <b>DOMENIUL STIINTA</b>	-să recunoască anotimpurile în funcție de elementele date -să denumească fenomenele specifice și caracteristici ale anotimpurilor	1- coloreaza imaginea care reprezinta toamna 2- încercuiește elementele caracteristice toamnei cu verde și ale iernii cu albastru	-fișă individuală	2 pct.      5pct.
	- să numere corect în limitele 1-6; - să raporteze numărul la cantitate și la cifră;  -sa identifice formele geometrice și atributele lor	3. desenează în vas tot atâtea flori câte fete sunt. Încercuiește cifra corespunzătoare. 4. formează grupe, numără elementele; Colorează grupa cu trei elemente; Desenează tot atâtea cerculețe câte mere sunt. 5. completează mulțimea frunzelor, astfel încât, să fie în total 6 frunze! Încercuiește	Joc didactic: -„Cine știe câștigă!”  -fisa individua la	2 pct.      3 pct.      2 pct.

		<p>cifra care arată câte frunze ai desenat!</p> <p>6.colorează cercurile mici cu galben și cu verde triunghiurile mari.</p> <p>Încercuiește cifra corespunzătoare numărului de triunghiuri mici.</p>		3 pct.
4. DOMENIUL ESTETIC CREATIV	<p>- să perceapă intensitatea și durata sunetelor</p> <p>-să-și dezvolte capacitatea de a se exprima prin muzică</p> <p>- să-și dezvolte simțul ritmului</p>	<p>1- să cânte în grupuri și individual cântece învățate</p> <p>2- să execute pași de dans în ritmul melodiei</p>	proba orală	3pct.
	<p>-să redea liber teme plastice prin tehnici specifice desenului</p> <p>-să redea din imaginație elemente , armonizând culorile</p> <p>-să folosească tehnici specifice modelajului în realizarea unor teme plastice</p>	<p>3- realizați un desen cu darurile pe care le preferați de la Moș Crăciun</p> <p>4- modelați o temă din cele preferate</p>	<p>- desen imaginație „Darurile Moșului”</p> <p>- modelaj “Tema aleasă de copii”</p>	3 pct.
5. DOMENIUL PSIHO- MOTRIC	<p>-să fie apt să utilizeze deprinderile însușite în diferite contexte</p> <p>-să manifeste spirit de echipă, atitudini de cooperare de fair-play</p> <p>-să respecte regulile stabilite</p>	<p>- traseu aplicativ – „Drumul lui Moș Crăciun”</p> <ul style="list-style-type: none"> <li>• alergare</li> <li>• ocolire și trecere peste obstacole</li> </ul>	proba practica	6 pct.

Punctaj maxim propus: 45 puncte

## EVALUARE SUMATIVĂ. DOMENIUL LIMBĂ ȘI COMUNICARE

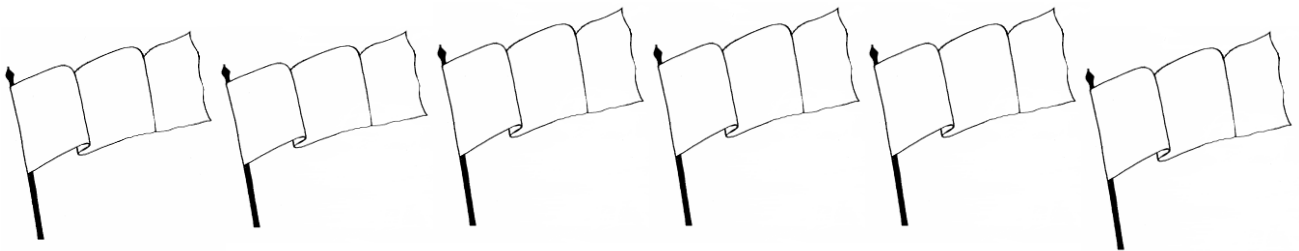
Recunoaște anotimpul.

Desparte în silabe și apoi reprezintă grafic silabele în dreptunghi.




## DOMENIUL ȘTIINȚĂ.

Colorează al doilea steag, taie-l pe primul și încercuiește-l pe al cincilea.



## EVALUARE SUMATIVĂ. DOMENIUL ȘTIINȚĂ.

Formează grupe, numără elementele;  
Colorează grupa cu trei elemente;  
Desenează tot atâtea cerculețe câte mere sunt.



### DESCRIPTORI DE PERFORMANȚA:

3 puncte	2 puncte	1 punct	0 puncte
Formează grupe, numără elementele; Colorează grupa cu trei elemente; Desenează tot atâtea cerculețe câte mere sunt.	Nu respectă mai mult de două cerințe ale fișei.	Realizează corect doar o cerință a fișei.	Nu realizează corect nici o cerință a fișei.

Desenează în vas tot atâtea flori câte fete sunt. Încercuiește cifra corespunzătoare



1	2	3
4	5	6



Completează mulțimea frunzelor, astfel încât, să fie în total 6 frunze!  
Încercuiește cifra care arată câte frunze ai desenat!



1

2


3

4

5

6

- Colorează cercurile mici cu galben și cu verde triunghiurile mari.
- Încercuiește cifra corespunzătoare numărului de triunghiuri mici.



1

2

3

4

5

6